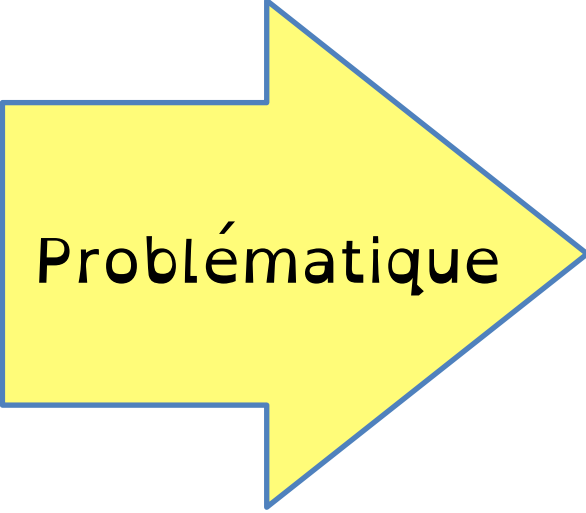
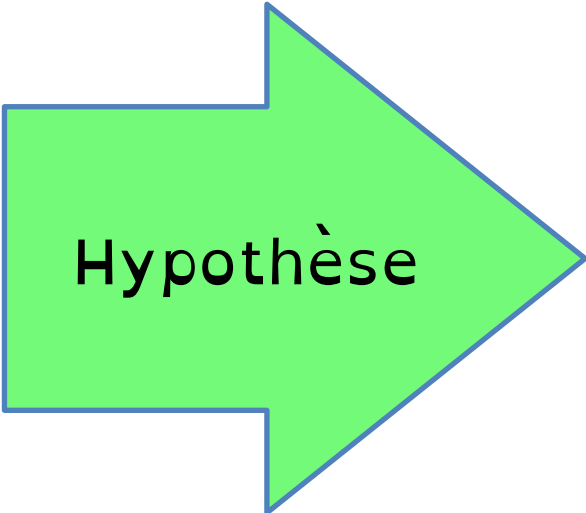


Dans le garage - Chapitre 2 - Activité 3



Problématique

Combien va coûter le dépôt des gravats à la déchetterie ?



Hypothèse

Il faut connaître la masse des gravats.



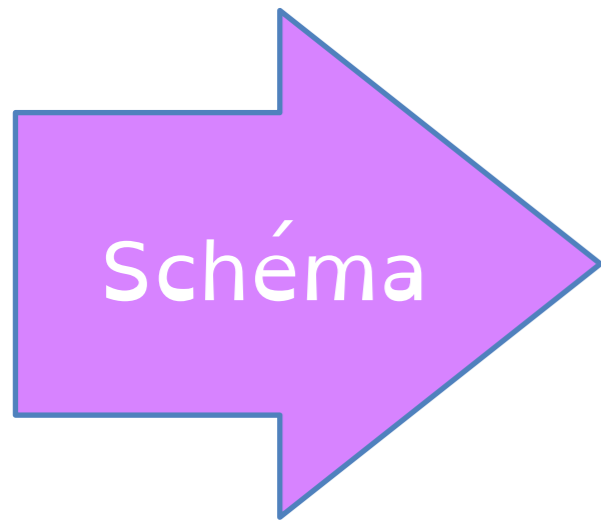
Expérience

Matériel:

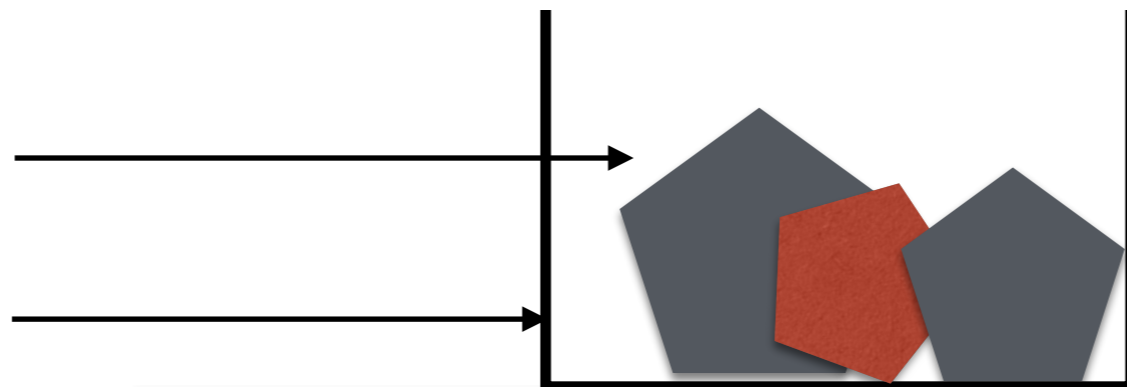
- gravats
- balance

Protocole:

- Peser les gravats en suivant le protocole d'utilisation de la balance.
- Noter la valeur de la masse.



gravats
coupelle



balance





Résultat

La masse des gravats est de g

$$m = \text{..... g}$$

On convertit la masse en tonne:

$$\text{..... g} = 0,0000\text{.... t}$$

On calcule le coût:

$$C = 0,0000\text{....} \times 35 = \text{.....} \text{ €}$$



Conclusion

Hypothèse validée.

On mesure la masse avec une balance afin de connaître le coût des déchets.