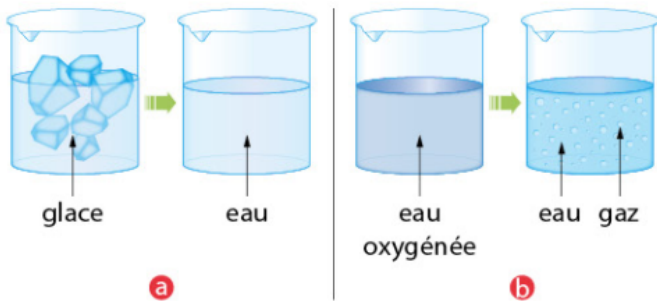


# Dans la cuisine - Chapitre 5 - Contrôle

## Exercice 1:

Choisis parmi les deux schémas ci-dessous celui ne correspondant pas à une transformation chimique. Justifie.

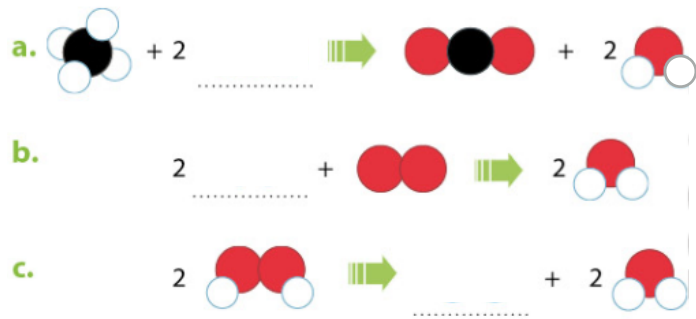


Comment la qualifie-t-on alors ?  
Pourquoi n'est-elle pas « chimique » ?

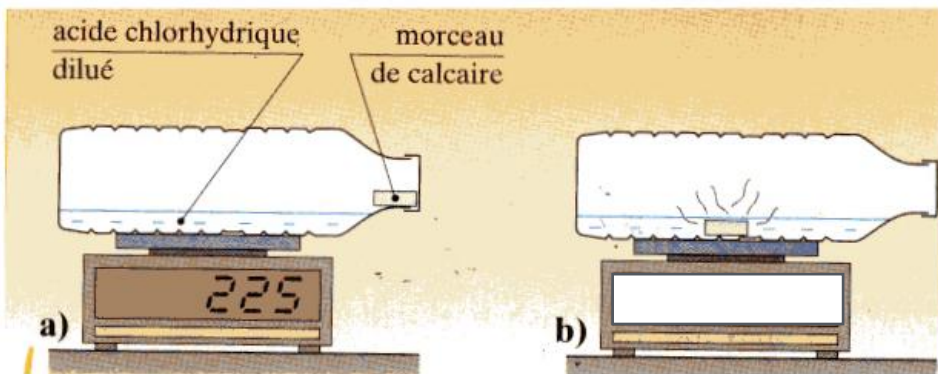
## Exercice 2:

Dans chacune des équations ci-dessous, il manque le modèle d'une molécule.

Dessine la molécule manquante pour équilibrer chacune des équations ci-dessous.



## Exercice 3:



Que va indiquer la balance à la fin de la transformation chimique ? JUSTIFIER